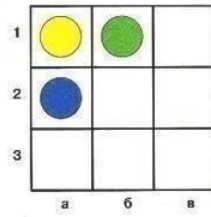
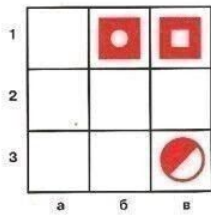
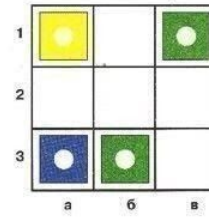
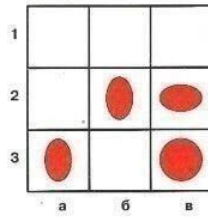


Задачи для решения



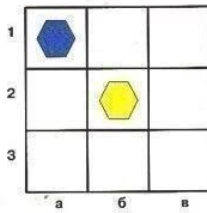
Задачи для решения



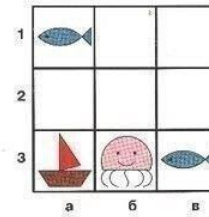
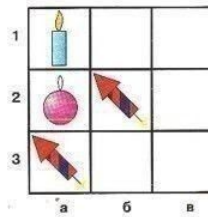
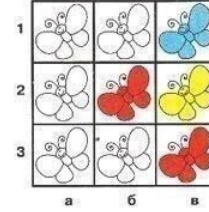
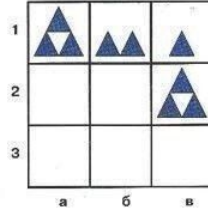
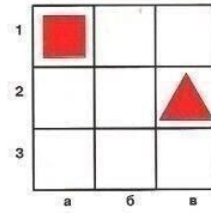
Тестовые задания. Проверьте, может ли ребенок активно применять новые знания. В таблице заполнено только два поля. В пустые поля нужно разместить подходящие фигуры из показанных в условии. Задачи имеют вполне корректное решение, для этого нужно будет построить логическую цепочку, состоящую из семи шагов.



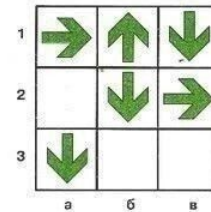
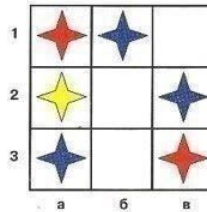
Исходные фигуры



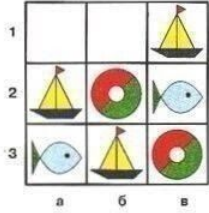
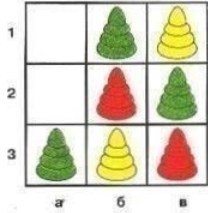
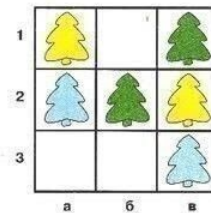
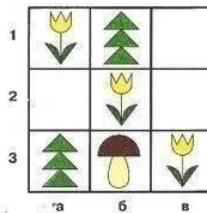
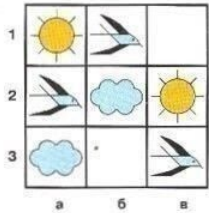
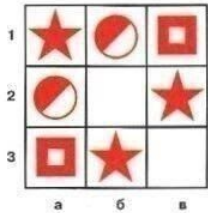
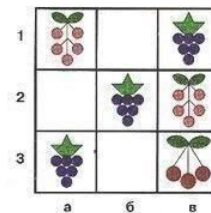
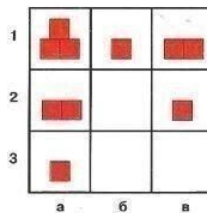
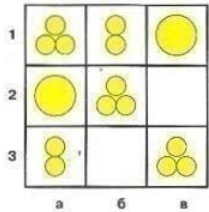
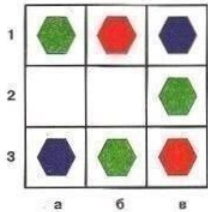
Исходные фигуры



Задачи для решения

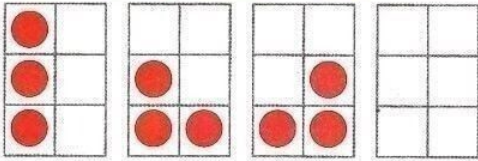
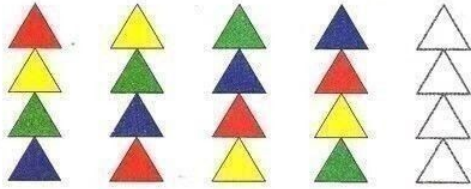


Задачи для решения




Разминка


Определи правило, по которому фигуры изменяются в ряду. Продолжи каждый ряд, дорисуй нужную фигуру.



Определи правило, по которому расположены фигуры в ряду. Выбери подходящую фигуру и продолжи ряд.

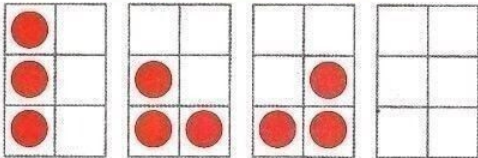
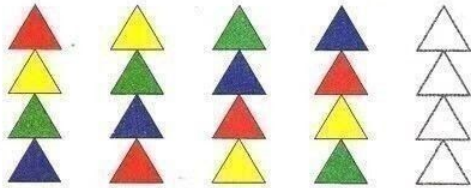


Выбираем из этих фигур.




Разминка

Определи правило, по которому фигуры изменяются в ряду. Продолжи каждый ряд, дорисуй нужную фигуру.



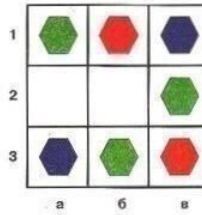
Определи правило, по которому расположены фигуры в ряду. Выбери подходящую фигуру и продолжи ряд.



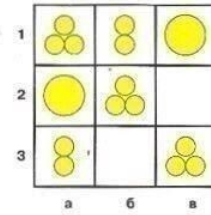
Выбираем из этих фигур.



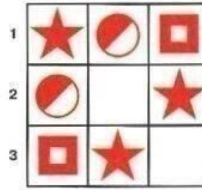
Задачи для решения



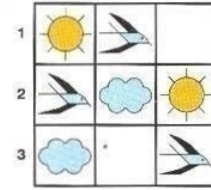
а б в



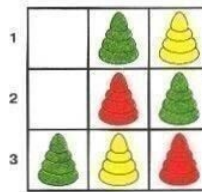
а б в



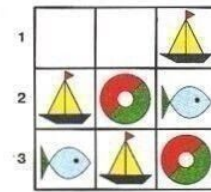
а б в



а б в

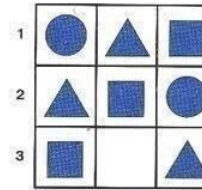


а б в

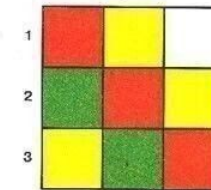


а б в

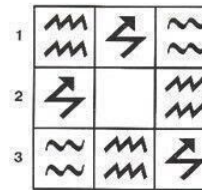
Задачи для решения



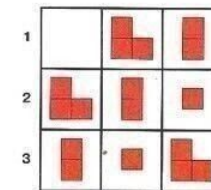
а б в




а б в



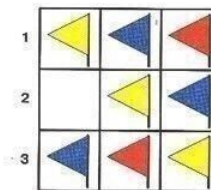
а б в



а б в



а б в



а б в